

## MATEMATICA

1. Guarda il video.

[https://www.youtube.com/watch?v=ly\\_paa8eu4k](https://www.youtube.com/watch?v=ly_paa8eu4k)

2. Completa le due schede sull'euro, fai le foto e inviale in classroom.

3. Risolvi sul quaderno i problemi.

## INGLESE

1. Guarda il video sulle parole opposte e memorizzale.

<https://www.youtube.com/watch?v=LF3crIV28xA>

2. Completa pag. 97 sul libro di inglese.



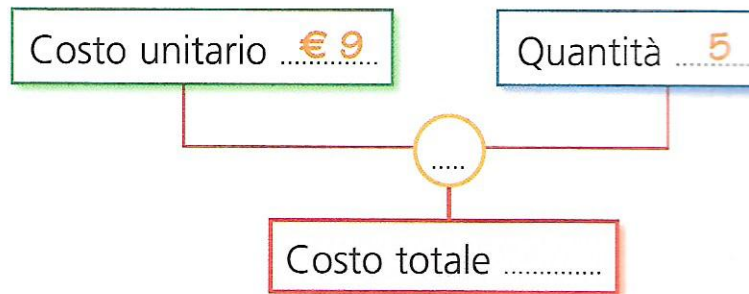
# COSTO UNITARIO, COSTO TOTALE

Leggi i testi dei problemi, inserisci i dati nei diagrammi, calcola e rispondi.  
Segui gli esempi.

1 Una pianta grassa costa € 9.  
Quanto costano 5 piante?

Risposta: .....

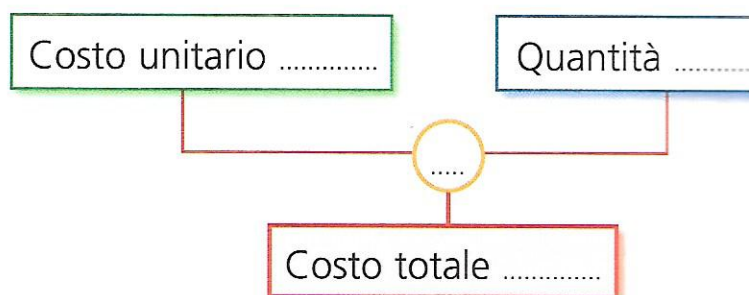
.....



2 Un mazzo di fiori misti costa € 6.  
La mamma ne acquista 3 per le sue  
sorelle. Quanto spende in totale?

Risposta: .....

.....



3 Anna ha speso € 32 per  
acquistare 4 pupazzetti di peluche  
da regalare alle amiche.  
Quanto costa un pupazzetto?

Risposta: .....

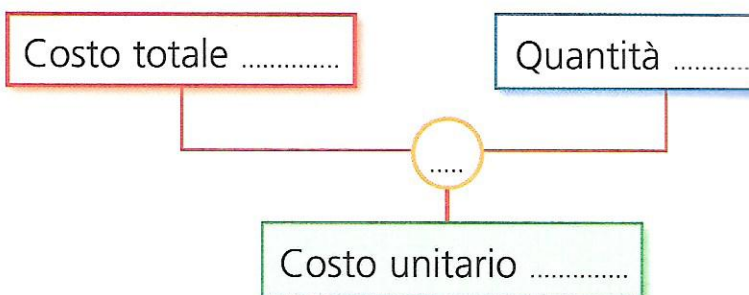
.....



4 Per acquistare 3 automobiline  
uguali Matteo ha speso € 27.  
Quanto costa ogni automobilina?

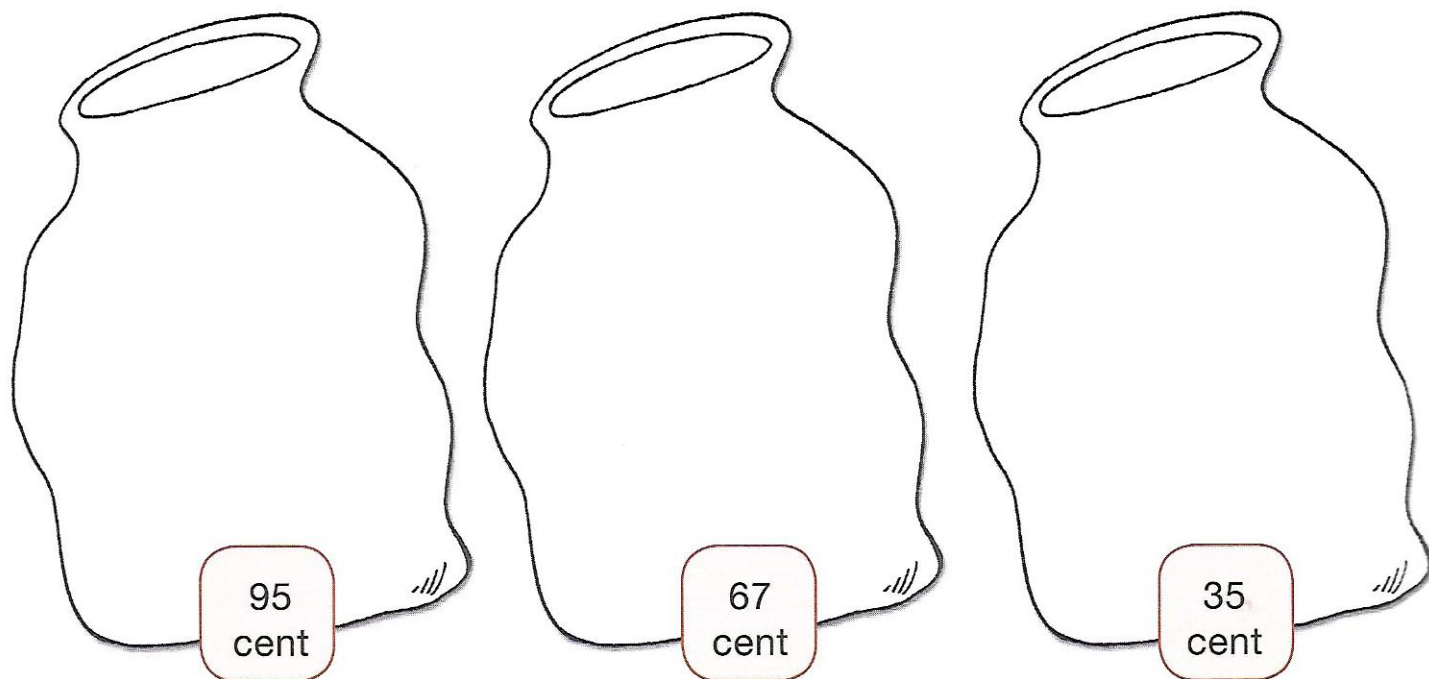
Risposta: .....

.....



## QUANTI EURO? 2

- 1 Disegna all'interno di questi sacchetti le monete necessarie per raggiungere il valore indicato.



- 2 Leggi e rispondi alle domande.

- Nel primo sacchetto, quanto manca per formare 1€? .....
- Nel secondo sacchetto, quanto devi togliere per avere 50 cent? .....
- Nel terzo sacchetto, quanto devi aggiungere per arrivare a 50 cent? .....
- Somma le cifre contenute nei tre sacchetti, quanto ottieni? .....

- 4 Rappresenta il risultato della somma disegnando le monete.

RISOLVI SUL QUADERNO.

1. Maria va al mercato e compra 3 paia di jeans.  
Ogni paio di jeans costa 30 euro.  
Quanto ha speso in totale?  
Se paga con una banconota da 100 euro, quanto riceverà di resto?
2. Carlo regala all'amico Luigi una bella canna da pesca che costa 56 euro e uno sgabello da pescatore che costa 24 euro.  
Se paga con una banconota da 100 euro, quanti euro gli restano?
3. Una famiglia composta da mamma, papà, una bambina di 11 anni e due fratelli gemelli di 9 anni va al cinema.  
Se il biglietto intero costa 8 euro e quello per i bambini di età inferiore ai 12 anni costa 6 euro, quanto spende la famiglia per vedere un film?