

COMPITI DI MATEMATICA PER LE CLASSI SECONDE
dal 27 al 30 aprile.

Completa le schede e scrivi la tabellina del 6 con il solito procedimento (con disegno).

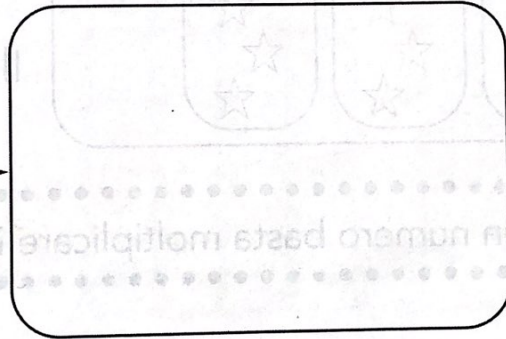
IL DOPPIO

Mago Arrigo ha fatto una magia e tutto diventa... doppio!




Per trovare il doppio di un numero basta moltiplicare il numero per 2.

Disegna il doppio di ogni gruppo di oggetti e completa con i numeri.




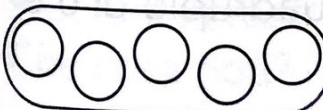
$$4 \times 2 = \dots\dots\dots$$

Il doppio di 4 è



$$3 \times \dots\dots\dots = \dots\dots\dots$$

Il doppio di 3 è



$$\dots\dots\dots \times \dots\dots\dots = \dots\dots\dots$$

Il doppio di è

🌀 Esegui le addizioni in colonna senza il cambio.

h da u

1 4 6 +

2 2 =

h da u

1 4 9 +

1 2 0 =

h da u

3 7 +

1 1 2 =

h da u

2 2 2 +

2 6 =

h da u

1 5 1 +

1 2 6 =

h da u

5 4 +

2 3 5 =

h da u

1 5 3 +

1 2 5 =

h da u

5 2 +

1 3 4 =

h da u

2 6 4 +

2 4 =

h da u

1 6 1 +

1 3 5 =

h da u

6 7 +

2 3 2 =

h da u

2 6 3 +

2 3 =

h da u

1 7 6 +

1 1 3 =

h da u

1 7 9 +

1 2 0 =

h da u

2 7 2 +

2 6 =

h da u

3 7 +

2 4 2 =
