

**Attività sesta settimana  
per lunedì 6/4/2020**

**Geometria:** ricopia i seguenti problemini sul quaderno e risolvili. (Puoi usare la calcolatrice, ma solo per calcolare i lati dei poligoni).

1. Calcola il perimetro e l'apotema di un esagono che ha il lato lungo cm 6 .
2. Calcola il lato e il perimetro di un pentagono che ha l'apotema lunga cm 2,064
3. Calcola il lato e il perimetro di un ottagonone che ha l'apotema lunga cm 4,828

Completa le schede sulle equivalenze.

**per mercoledì 8/4/2020**

**Italiano:** leggi il libro "Ranocchio è .. un ranocchio" in modo molto espressivo (come se dovessi fare un audiolibro)

Sul quaderno di italiano fai una breve scheda del libro scrivendo:

Titolo

Autore

Protagonista

Personaggi

Svolgimento

Conclusione

Cosa ti suggerisce la storia


Fai un breve riassunto della storia

Se vuoi lavora su Google documenti e condividi con me quando hai finito  
(CHIARIONI.PAOLA@icvialeanmarco.it)

**Storia:** ascolta gli audio racconti o leggi da solo sui video, tratti da BRUTTE STORIE RIVOLTANTI ROMANI, T. Deary, Salani editore

I videoracconti, il libro di Ranocchio e gli altri materiali sono nello stream di Classroom.

# Problemi con le misure



Ora impara a fare la spesa da solo, come i grandi.



259

4 bottiglie di vino = ..... l



0,75 l



0,5 l



1,5 l



200 ml

5 bottiglie di olio = ..... l

6 bottiglie di acqua = ..... l

5 succhi = ..... l




Totale litri = ..... l

260



1 kg



250 g



450 g



480 g

Giovanni compra 4 prodotti per tipo.

Peso totale = ..... kg

261

Per la sua ricetta a Maria servono:

600 g di zucchero = ..... kg



1 kg



250 g



200 g



400 g

600 g di yogurt = ..... kg

600 g di burro = ..... kg

600 g di biscotti = ..... kg

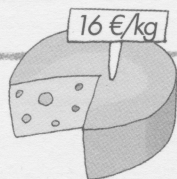


Quanto peserà la sua spesa? ..... kg



Il prezzo unitario è il più importante.  
Lo riconosci perché ha due marche.

248



Inserisci il prezzo unitario e gli altri dati nelle etichette.  
Ricorda, per calcolare il prezzo totale puoi sempre moltiplicare.



1 kg e mezzo

prezzo totale  
.....  
quantità      prezzo unitario  
.....  
1,5 kg      16 €/kg

1 kg e 2 hg

prezzo totale  
.....  
quantità      prezzo unitario  
.....

3 hg e mezzo

prezzo totale  
.....  
quantità      prezzo unitario  
.....

3 kg e 2 hg

prezzo totale  
.....  
quantità      prezzo unitario  
.....

1 kg e 3 hg

prezzo totale  
.....  
quantità      prezzo unitario  
.....

5 hg

prezzo totale  
.....  
quantità      prezzo unitario  
.....

249



Quando è necessario trasforma le marche.  
Per trovare il prezzo totale puoi sempre moltiplicare.

Mezzo chilo

prezzo totale  
.....  
quantità      prezzo unitario  
.....  
0,500 kg      3,50 €/kg

2 kg e 2 hg

prezzo totale  
.....  
quantità      prezzo unitario  
.....

1 hg e 40 g

prezzo totale  
.....  
quantità      prezzo unitario  
.....

3 kg

prezzo totale  
.....  
quantità      prezzo unitario  
.....

1 kg e 4 hg

prezzo totale  
.....  
quantità      prezzo unitario  
.....

1 200 g

prezzo totale  
.....  
quantità      prezzo unitario  
.....