

SCUOLA T. VECCELLIO: CLASSE 2[^] D:

MATEMATICA:



SUL QUADERNO NUMERA FINO A 99 CONTANDO +3

3 – 6 – 9 – 12 ... e così via

SUL QUADERNO NUMERA FINO A 100 CONTANDO +4

4 – 8 – 12 – 16...

SUL QUADERNO NUMERA DA 1 A 100 (1-2-3..)

E TORNA INDIETRO NUMERANDO DA 100 A 1(100-99-98..)

INVENTA 2 PROBLEMINI CON QUESTI NUMERI : 28 -7- 84- 12
(UNO CON L'ADDIZIONE E UNO CON LA SOTTRAZIONE)

$$2 \times 2 =$$

$$3 \times 4 =$$

$$2 \times 6 =$$

$$3 \times 5 =$$

$$0 \times 5 =$$

$$2 \times 9 =$$

$$0 \times 8 =$$

$$1 \times 0 =$$

$$4 \times 2 =$$

$$5 \times 1 =$$

$$3 \times 0 =$$

$$0 \times 0 =$$

$$5 \times 5 =$$

$$4 \times 4 =$$

$$4 \times 8 =$$

$$3 \times 9 =$$

$$1 \times 8 =$$

$$2 \times 10 =$$

$$3 \times 7 =$$

$$4 \times 6 =$$

$$2 \times 7 =$$

$$3 \times 10 =$$

$$2 \times 1 =$$



RITAGLIA I DISEGNI E SCRIVI COSA VEDI. CALCOLA IL TOTALE CON UNA ADDIZIONE E UNA MOLTIPLICAZIONE

ESEMPIO: Cosa vedi ? 2 fiori - 4 vasi = $2+2+2+2=8$ FIORI

2FIORI ripetuti per 4 VASI=

2×4 volte=8 FIORI

RICORDA SEMPRE: COSA SI RIPETE: I FIORI, in questo caso






Cosa vedi ? 4 gambe – 3 cavalli Cosa si ripete? Le gambe

$4+4+4= 12$ GAMBE

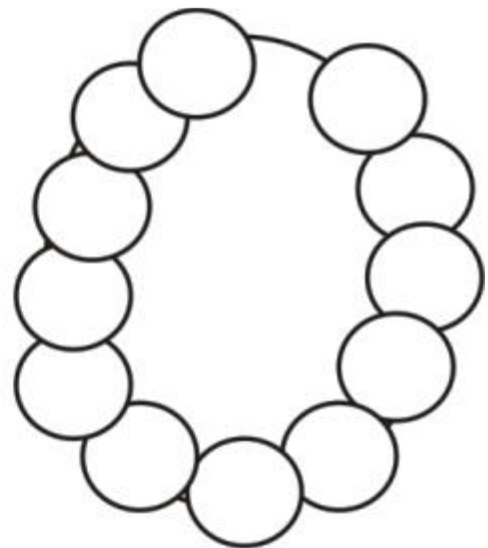
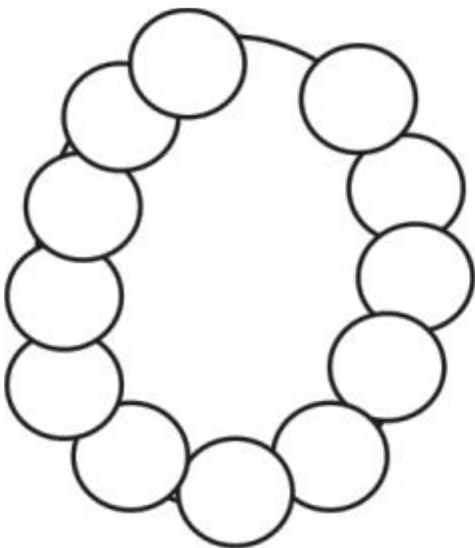
4 GAMBE RIPETUTE PER 3 CAVALLI=... 4×3 VOLTE=...





7 mele – 2 ceste . COSA RIPETI? LE MELE . Quante volte? 2 volte



2 zampe – 3 galline. Cosa ripeti? Le zampe. Quante volte?




12 perle – 2 collane Cosa ripeti ? Le perle. Quante volte?



LEGGI IL TESTO E GUARDA I DISEGNI. RISOLVI SIA CON L'ADDIZIONE CHE CON LA MOLTIPLICAZIONE.


Una mano ha 5 dita. Quante dita hanno in tutto 4 mani?




$5+5+5+5=$

$5 \times 4 =$

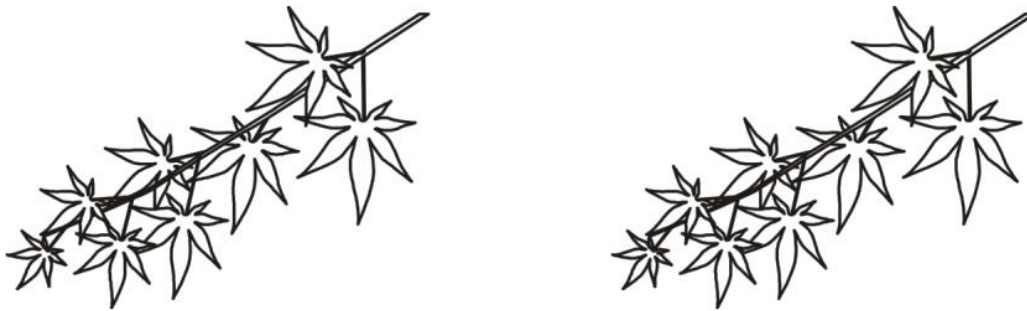
Una forchetta ha 4 punte. Quante punte hanno in tutto 6 forchette?




Un mazzetto ha 3 fruttini. Quanti fruttini ci sono in 5 mazzetti ?




Un rametto ha 8 foglioline. Quante foglioline hanno in tutto 2 rametti ?



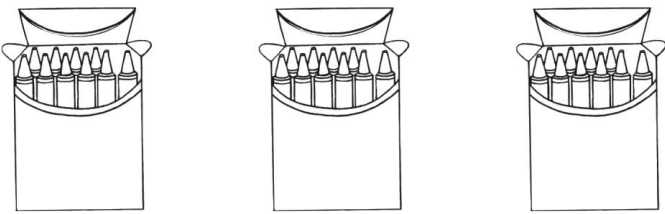
Un vaso ha 3 fiori. Quanti fiori hanno in tutto 6 vasi ?



Ogni bicicletta ha 2 ruote. Quante ruote hanno 9 biciclette?



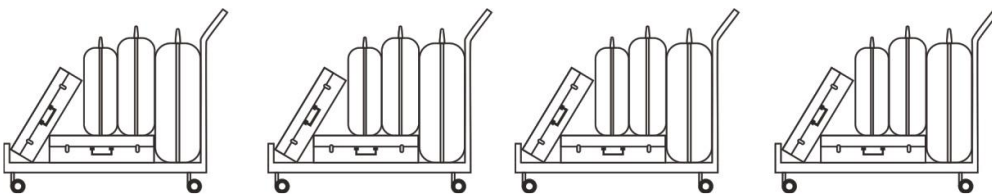
Una scatola ha 10 colori. Quanti colori hanno 3 scatole?



Una coccinella ha 7 puntini neri. Quanti puntini neri hanno in tutto 3 coccinelle ?



Un carrello trasporta 5 valige. Quante valige hanno in tutto 4 carrelli ?



Addizioni e sottrazioni - Metti in colonna e calcola

$23+42+24=$

$14+16+10=$

$12+23+50=$

$34+24=$

$23+18+22=$

$47+12+11=$

$20+33+36=$

$41+36+13=$

$39+2+10=$

$7+ 32=$

$50 - 18=$

$79 - 36 =$

$65 - 24 =$

$91 - 38 =$

$87 - 37 =$

$73 - 24 =$

$29 - 18 =$

$99 - 48 =$

$97 - 20 =$

$43 - 14 =$

+	0	1	2	3	4	5	6	7	8	9	10
5											
4											
3											
2											
1											
0											

-	6	7	8	9	10
10					
12					
9					
11					

-	6	7	8	12	10
20					
19					
18					
17					

ITALIANO

- Sul q. di italiano fai una descrizione “Cosa vedo dalla mia finestra” e completala con il disegno.
- Scrivi sul q. 10 nomi comuni di persona (poliziotto, veterinario, etc), 10 nomi comuni di animale (cane, serpente, etc), 10 nomi comuni di cosa (sedia, albero, etc).
- Trasforma i nomi comuni (dell’esercizio precedente) dal singolare al plurale.
es. poliziotto poliziotti
 cane cani
 sedia sedie
- Ripassa bene gli articoli determinativi (il, lo, la, l’, i, gli, le) e gli articoli indeterminativi (un, uno, una, un’).
- Sul quaderno inventa un breve e semplice fumetto in modo da usare il discorso diretto (come quando si parla).

Per fare il fumetto pensa a 2 personaggi che fanno qualcosa, disegna 6 o 8 vignette (all’interno dei box) e scrivi i fumetti. Poi colora.

RICORDA che nel fumetto non serve usare la punteggiatura (:- o :”).

- Controlla il quaderno di italiano e finisci di colorare i disegni.
- Ogni giorno leggi **ALMENO** 5 pagine di un libro che ti piace.