

## SCUOLA T. VECCELLIO: CLASSE 2<sup>^</sup> C:

Cari bambini,

ci mancate molto e speriamo di rivederci presto.

Siamo sicure che un pochino vi annoiate a casa 😊 quindi abbiamo pensato di darvi qualche compito per ripassare un pochino e per ripartire in quarta quando ci rivedremo.

Ne abbiamo messi un po' , ma non vi preoccupate se non riuscite a finirli tutti.

Per quanto riguarda matematica, ho messo un po' di schede che potete stampare e poi incollare sul quaderno.

Mi raccomando: imparate le tabelline fino al 5, così potremo fare le gare di tabelline a squadre quando torneremo alla nostra normalità scolastica.

Sul libro di matematica puoi completare le pagine dedicate alle tabelline fino al 5.

Ricordati che le tabelline le puoi studiare anche dalle tabelle che abbiamo fatto sul quaderno.

Un abbraccio grande dalle vostre maestre

Clementina e Valentina



SUL QUADERNO NUMERA FINO A 99 CONTANDO +3

3 – 6 – 9 – 12 ... e così via

SUL QUADERNO NUMERA FINO A 100 CONTANDO +4

4 – 8 – 12 – 16...

SUL QUADERNO NUMERA DA 1 A 100 (1-2-3..)

E TORNA INDIETRO NUMERANDO DA 100 A 1(100-99-98..)

INVENTA 2 PROBLEMINI CON QUESTI NUMERI : 28 -7- 84- 12  
(UNO CON L'ADDIZIONE E UNO CON LA SOTTRAZIONE)

$2 \times 2 =$

$3 \times 4 =$

$2 \times 6 =$

$3 \times 5 =$

$0 \times 5 =$

$2 \times 9 =$

$0 \times 8 =$

$1 \times 0 =$

$4 \times 2 =$

$5 \times 1 =$

$3 \times 0 =$

$0 \times 0 =$

$5 \times 5 =$

$4 \times 4 =$

$4 \times 8 =$

$3 \times 9 =$

$1 \times 8 =$

$2 \times 10 =$

$3 \times 7 =$

$4 \times 6 =$

$2 \times 7 =$

$3 \times 10 =$

$2 \times 1 =$



**RITAGLIA I DISEGNI E SCRIVI COSA VEDI. CALCOLA IL TOTALE CON UNA ADDIZIONE E UNA MOLTIPLICAZIONE**

ESEMPIO: Cosa vedi ? 2 fiori - 4 vasi =  $2+2+2+2=8$  FIORI

2FIORI ripetuti per 4 VASI=

$2 \times 4$  volte=8 FIORI

RICORDA SEMPRE: COSA SI RIPETE: I FIORI, in questo caso






Cosa vedi ? 4 gambe – 3 cavalli Cosa si ripete? Le gambe

$4+4+4= 12$  GAMBE

4 GAMBE RIPETUTE PER 3 CAVALLI=...       $4 \times 3$  VOLTE=...

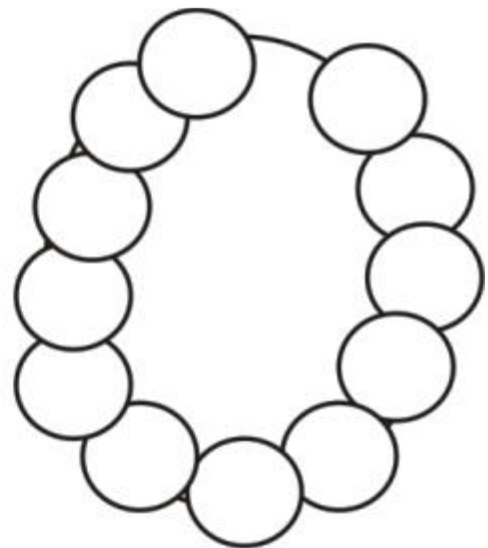
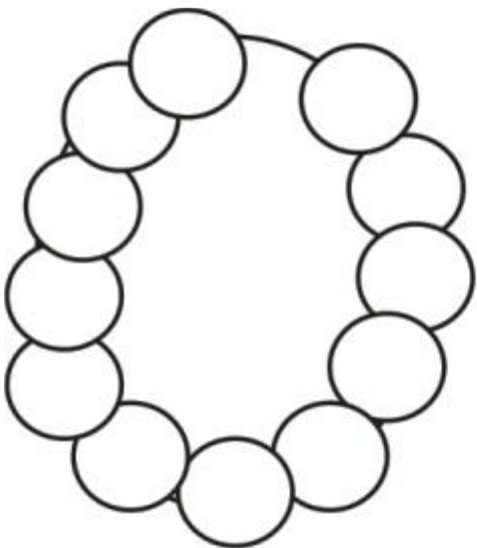


7 mele – 2 ceste .      COSA RIPETI? LE MELE . Quante volte? 2 volte





2 zampe – 3 galline.      Cosa ripeti? Le zampe. Quante volte?

---




12 perle – 2 collane      Cosa ripeti ? Le perle. Quante volte?

---



LEGGI IL TESTO E GUARDA I DISEGNI. RISOLVI SIA CON L'ADDIZIONE CHE CON LA MOLTIPLICAZIONE.

Una mano ha 5 dita. Quante dita hanno in tutto 4 mani?




$5+5+5+5=$

$5 \times 4 =$ 


---

Una forchetta ha 4 punte. Quante punte hanno in tutto 6 forchette?

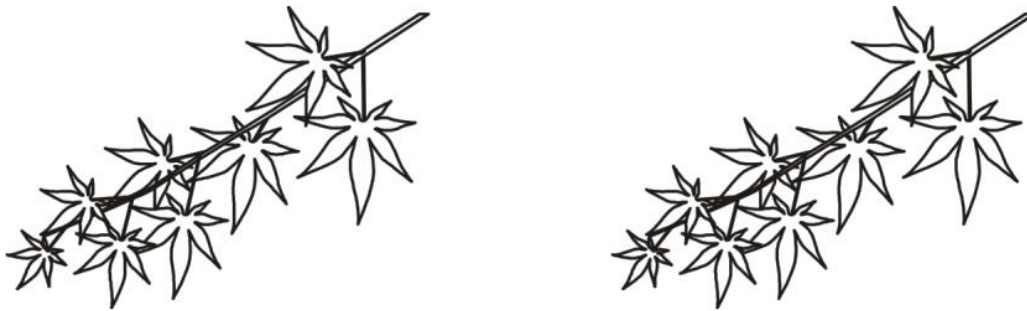


---


Un mazzetto ha 3 fruttini. Quanti fruttini ci sono in 5 mazzetti ?




Un rametto ha 8 foglioline. Quante foglioline hanno in tutto 2 rametti ?



Un vaso ha 3 fiori. Quanti fiori hanno in tutto 6 vasi ?

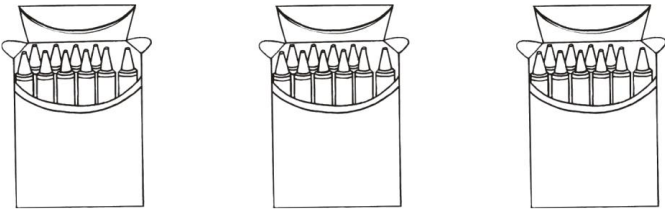


Ogni bicicletta ha 2 ruote. Quante ruote hanno 9 biciclette?



---

Una scatola ha 10 colori. Quanti colori hanno 3 scatole?



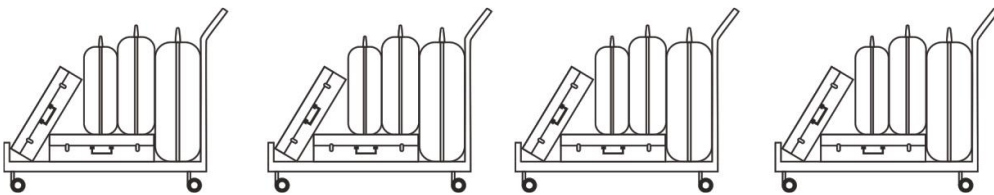
---

Una coccinella ha 7 puntini neri. Quanti puntini neri hanno in tutto 3 coccinelle ?



---

Un carrello trasporta 5 valige. Quante valige hanno in tutto 4 carrelli ?





---

Addizioni e sottrazioni - Metti in colonna e calcola

$23+42+24=$

$14+16+10=$

$12+23+50=$

$34+24=$

$23+18+22=$

$47+12+11=$

$20+33+36=$

$41+36+13=$

$39+2+10=$

$7+ 32=$

$50 - 18=$

$79 - 36 =$

$65 - 24 =$

$91 - 38 =$

$87 - 37 =$

$73 - 24 =$

$29 - 18 =$

$99 - 48 =$

$97 - 20 =$

$43 - 14 =$

+	0	1	2	3	4	5	6	7	8	9	10
5											
4											
3											
2											
1											
0											

-	6	7	8	9	10
10					
12					
9					
11					

-	6	7	8	12	10
20					
19					
18					
17					

## ITALIANO

- Sul q. di italiano fai una descrizione “Cosa vedo dalla mia finestra” e completala con il disegno.
- Scrivi sul q. 10 nomi comuni di persona (poliziotto, veterinario, etc), 10 nomi comuni di animale (cane, serpente, etc), 10 nomi comuni di cosa (sedia, albero, etc).
- Trasforma i nomi comuni (dell’esercizio precedente) dal singolare al plurale.  
es. poliziotto            poliziotti  
      cane                 cani  
      sedia                sedie
- Ripassa bene gli articoli determinativi (il, lo, la, l’, i, gli, le) e gli articoli indeterminativi (un, uno, una, un’).
- Sul quaderno inventa un breve e semplice fumetto in modo da usare il discorso diretto (come quando si parla).

Per fare il fumetto pensa a 2 personaggi che fanno qualcosa, disegna 6 o 8 vignette (all’interno dei box) e scrivi i fumetti. Poi colora.

**RICORDA** che nel fumetto non serve usare la punteggiatura (:- o :”).

- Controlla il quaderno di italiano e finisci di colorare i disegni.
- Ogni giorno leggi **ALMENO** 5 pagine di un libro che ti piace.