

CLASSE 5 A VECCELLIO COMPITI INS. FAGGIAN

ATTIVITA' DA SVOLGERE DURANTE IL PERIODO DI SOSPENSIONE DALLE LEZIONI (DAL 9 al 15 marzo 2020)

ITALIANO:

- Dal libro VERDE: pagine 80 e 81, completare le mappe di pag. 82 e 83.
 - Pagine 125, 126 e 127 (sono attività che abbiamo svolto bene l'anno scorso e che non avevamo ancora rivisto).

DAL LIBRO ARANCIONE: pagina 80 , ricopiare la struttura nel quaderno;

Leggere e svolgere le consegne delle pagine 81, 82, 83, 84.

CHIEDO A CHI USA IL LIBRO ARANCIONE SEMPLIFICATO DI VERIFICARE LA CORRISPONDENZA DELLE PAGINE ED EVENTUALMENTE DI NON SVOLGERE QUELLE CHE LI' NON CI SONO.

SVOLGERE LE SCHEDE CHE HO SCANSIONATO E INCOLLARLE NEL QUADERNO.

STORIA: Leggere e sottolineare le cose importanti da pagina 44 a 49; completare la mappa a pagina 50.

Da internet, andare su GOOGLE e digitare: RINO NELLA STORIA. Vi apparirà una schermata con vari personaggi, voi cliccate sopra quello etrusco. Guardatelo bene e fate anche i giochi, è divertente! Se vi viene voglia, potreste guardare anche i video sui popoli che abbiamo già studiato (per ora non fate i ROMANI, eh!).

Su YOU TUBE, guardare il video intitolato: GLI ETRUSCHI DOVE E QUANDO, che dura 16,32 minuti.

DOPO AVER GUARDATO I VIDEO, studiare gli Etruschi dal libro, da pagina 51 a 56, completare la mappa a pag. 57. Nel quaderno scrivere il titolo ETRUSCHI e ricalcare la cartina di pag. 52.

Vi consiglio di guardare, sempre su YOU TUBE, il video di Alberto Angela IL MISTERO DEGLI ETRUSCHI (dura: 1:24.08 minuti).

GEOGRAFIA: STUDIARE IL VENETO e fare le schede che vi ho allegato, incollandole nel quaderno (se lo avete a casa).

RAGAZZI, QUESTI COMPITI LI POTETE FARE DA SOLI PERCHE' NE SIETE CAPACI! MI RACCOMANDO. SE AVETE BISOGNO DI ME, SAPETE DOVE E COME TROVARMICI. UN ABBRACCIO. MAESTRA SIMONETTA.

NOME CLASSE DATA

ATTENZIONE AL TEMPO DEI VERBI!

Leggi questa frase:


La mamma mangia la mela che cadrà ieri dall'albero.

C'è qualcosa che non va: il verbo "mangia" mi fa pensare che la storia stia accadendo proprio ora, mentre il verbo "cadrà" mi fa credere che qualcosa avverrà nel futuro. Ma c'è una parolina "ieri", che mi fa pensare al passato...

Ecco la frase giusta:

La mamma mangia la mela che è caduta ieri dall'albero.

Bisogna stare attenti alle indicazioni contenute nelle frasi per capire quando accadono le azioni raccontate e qual è il tempo del verbo più corretto per raccontarle.



◆ Leggi con attenzione le frasi che seguono, trova gli errori e sottolineali con la matita. Riscrivi poi ogni frase corretta e sottolineala con un evidenziatore. Per aiutarti, in alcune frasi ho sottolineato io il verbo che devi cambiare!

- Oggi è una giornata molto calda. In questo momento desideravo proprio essere al mare.

.....

- C'era una volta un principe che avrà i capelli biondi.

.....

- L'anno scorso io comincio a cantare nel coro del paese.

.....


- Su un pianeta lontano, tanto tempo fa, vivrà un piccolo extraterrestre viola.

.....

- Adesso mangiavo il pane con la cioccolata.

.....

- Domani sono andato al circo con mio fratello.
.....
.....
- La settimana prossima Gigi e io siamo stati al mare dalla nonna.
.....
.....
- Quando ero piccolo, bevo il latte dal biberon.
.....
.....
- Da grande, sarei voluto diventare un grande mago per far sparire un elefante!
.....
.....
- Oggi è il mio compleanno e la mamma mi preparò una crostata deliziosa per la festa del pomeriggio.
.....
.....
- Domani è domenica e al mattino potevo andare a giocare al pallone!
.....
.....
- Prima ho acceso una candela che ora si spense completamente.
.....
.....
- Non ricordo perché ieri la nonna comprerà tanto pane!
.....
.....



Hai capito perché ti ho fatto sottolineare con l'evidenziatore le frasi che hai scritto? Si sottolinea qualcosa per ricordarla meglio... è bello ricordarsi le frasi corrette, non quelle con l'errore!



Scrivi al posto adatto i seguenti nomi mancanti.

- MONTI: Marmolada, Grappa
- PASSI: Falzarego
- LAGHI: Garda
- FIUMI: Po, Adige, Piave

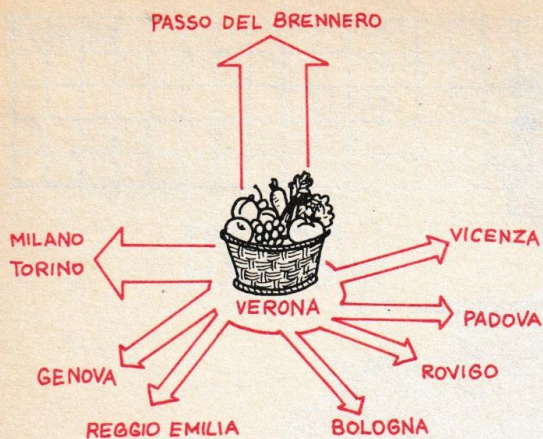
Colora in rosso il territorio della regione e completa.

Il Veneto confina a nord con

a est con

a sud con

a ovest con



A Verona si trova il più grande centro italiano per il commercio di prodotti ortofrutticoli. Questi prodotti, oltre che dalla campagna veronese, provengono dalla Sicilia e poi vengono smistati come mostra il grafico. La maggior parte di essi viene esportata in Germania attraverso il

Nel Veneto le industrie sono abbastanza diffuse.

Cerchia con il colore rosso la zona di Mestre-Marghera dove sono concentrate le industrie metallurgiche, chimiche e petrolchimiche.

Cerchia con il colore azzurro le zone di Verona, Vicenza, Padova, Conegliano dove si trovano industrie meccaniche.

Cerchia con il colore verde le zone di Schio e di Valdagno dove si trovano industrie tessili.



Trova la relazione esistente tra i rettangoli: conoscerai il nome di altre industrie venete.

vino e vinacce

zuccherifici

barbabietole

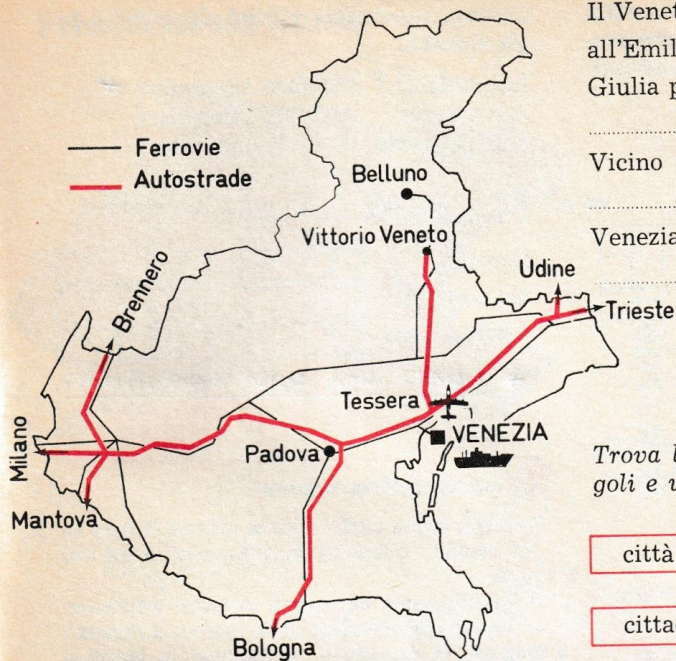
conservifici

frutta

cantieri nav.

porti

distillerie



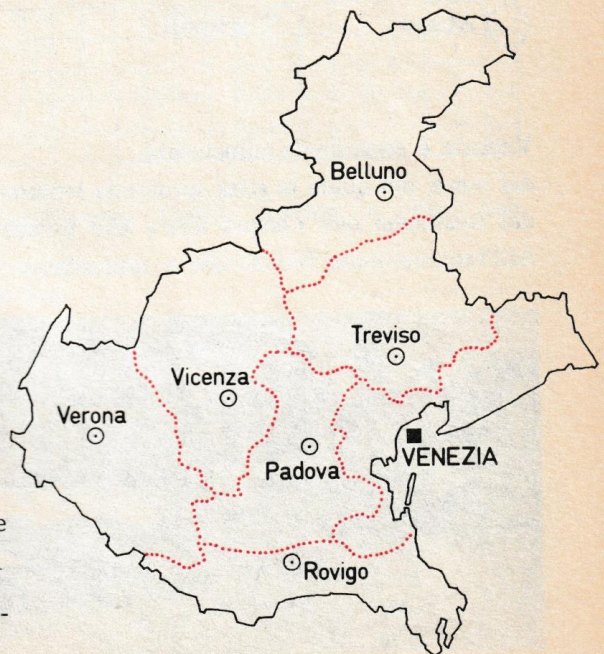
Il Veneto è ben collegato alla Lombardia, all'Emilia-Romagna, al Friuli-Venezia Giulia per mezzo di ferrovie e di
 che favoriscono il turismo.
 Vicino a Venezia, a Tesserà, c'è un
 Venezia è anche un importante

Trova la relazione esistente tra i rettangoli e uniscili con una linea.

- | | |
|--------------------|---------|
| città d'arte | Cortina |
| cittadina balneare | Venezia |
| soggiorno alpino | Jesolo |

Colora con un colore diverso ogni provincia e completa, scrivendo la sigla automobilistica.

- Venezia
- Padova
- Verona
- Vicenza
- Treviso
- Belluno
- Rovigo



Il paese più settentrionale della regione appartiene alla provincia di

Il paese più occidentale della regione appartiene alla provincia di

La figura corrisponde alla popolazione italiana. Colora in rosso la parte corrispondente al Veneto che ha 4.905.854 abitanti.

= 1.000.000 di abitanti



Colora con lo stesso colore i cerchi dei nomi che è possibile mettere in relazione.

- | | |
|----------------------------------|---|
| <input type="checkbox"/> Verona | <input type="checkbox"/> merletti |
| <input type="checkbox"/> Murano | <input type="checkbox"/> acqua minerale |
| <input type="checkbox"/> Recoaro | <input type="checkbox"/> Fiera agricola |
| <input type="checkbox"/> Burano | <input type="checkbox"/> cure termali |
| <input type="checkbox"/> Abano | <input type="checkbox"/> cristalli |

Venezia è seriamente minacciata:

dal mare, nel quale la città sprofonda lentamente;

dal fenomeno dell'« acqua alta » che invade le sue calli;


dall'inquinamento industriale e atmosferico delle fabbriche di Marghera.



Colora i quadratini relativi alle attività degli abitanti.

Industria: 730.000 lavoratori *
 Agricoltura: 225.000 lavoratori
 Altre attività: 510.000 lavoratori

= 100.000 lavoratori



* I DATI NON SONO AGGIORNATI.

La rubrica dell'esploratore

Venezia è una città unica al mondo. Sorge su 122 isolotti, collegati da 126 canali e da 410 ponti.

Il Veneto vanta numerose bellezze artistiche. A Venezia: la Basilica di S. Marco, il Palazzo Ducale, la Ca' d'oro; a Padova: la Basilica del Santo, la Cappella degli Scrovegni; a Verona: l'Arena romana.

5°A

MATEMATICA

Eserciziario: pag. 54 numero 1/2/3/4/5/6

Eseguire sul quaderno i seguenti problemi:

- 1) Un campo rettangolare ha i lati di 67 m e 45 m. Qual è il suo perimetro?
- 2) Calcola il perimetro di un rombo che ha il lato di 114 dm.
- 3) Una sarta fa 24 lavoretti di pizzo dalla forma romboide avente il lato di 0,65m.
Successivamente, intorno ad ognuno di essi cuce un nastro che costa euro 3,40 al metro.
Qual è il perimetro di un lavoretto? Quanto spenderà la sarta per cucire il nastro ai 24 lavoretti?