

## 5) OPERAZIONI MISTE PER IL RIPASSO

a) Metti in colonna e calcola con la prova:

$$172.099 + 568.327 + 182.000 = \underline{\hspace{2cm}}$$

$$78.867 + 670.221 + 159.969 = \underline{\hspace{2cm}}$$

$$129.992 + 689.950 + 18.527 = \underline{\hspace{2cm}}$$

$$735.353 - 509.208 = \underline{\hspace{2cm}}$$

$$500.148 - 232.922 = \underline{\hspace{2cm}}$$

$$466.615 - 154.392 = \underline{\hspace{2cm}}$$

$$7.592 \times 57 = \underline{\hspace{2cm}}$$

$$8.816 \times 101 = \underline{\hspace{2cm}}$$

$$14.078 \times 15 = \underline{\hspace{2cm}}$$

$$819.363 : 9 = \underline{\hspace{2cm}}$$

$$719.860 : 5 = \underline{\hspace{2cm}}$$

$$481.975 : 8 = \underline{\hspace{2cm}}$$



b) Metti in colonna e calcola con la prova:

$$858,1 + 0,9 + 988,04 = \underline{\hspace{2cm}}$$

$$620,233 + 4.813,4 = \underline{\hspace{2cm}}$$

$$931,296 + 145,301 = \underline{\hspace{2cm}}$$

$$8.825,82 - 0,401 = \underline{\hspace{2cm}}$$

$$7.175,132 - 0,07 = \underline{\hspace{2cm}}$$

$$706,15 - 29,996 = \underline{\hspace{2cm}}$$

$$48.855 \times 11,5 = \underline{\hspace{2cm}}$$

$$159 \times 53,48 = \underline{\hspace{2cm}}$$

$$51,3 \times 13,63 = \underline{\hspace{2cm}}$$

$$5.116,24 : 5 = \underline{\hspace{2cm}}$$

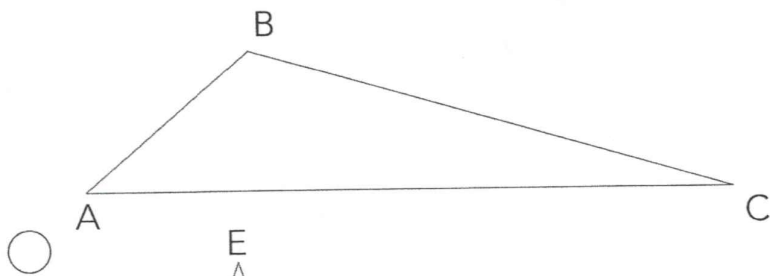
$$69,029 : 7 = \underline{\hspace{2cm}}$$

$$7.221,2 : 2 = \underline{\hspace{2cm}}$$

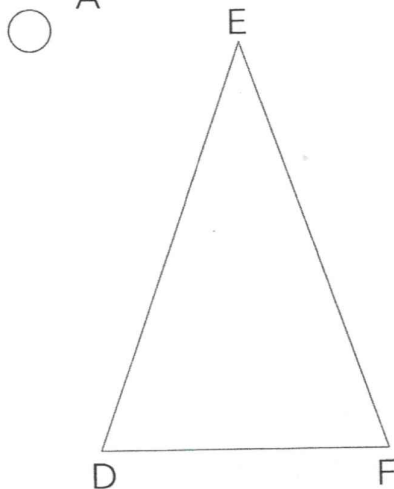


# IL PERIMETRO DEI TRIANGOLI

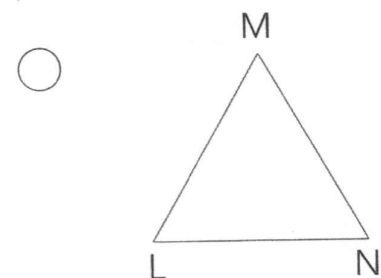
Misura con il righello la lunghezza dei lati di ogni triangolo, poi calcola il perimetro.



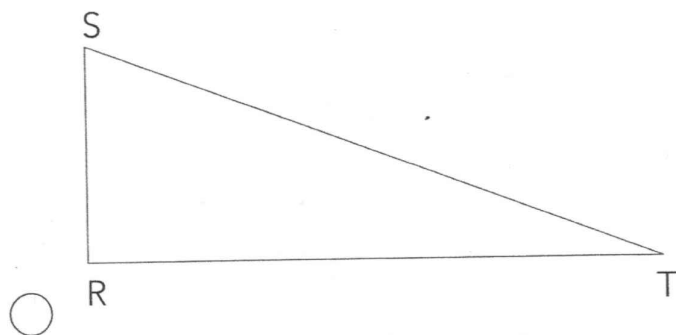
AB = ..... cm  
 BC = ..... cm  
 CA = ..... cm  
 p = ..... + ..... + ..... = .....



DE = ..... cm  
 EF = ..... cm  
 FD = ..... cm  
 p = ..... = .....



LM = ..... cm  
 MN = ..... cm  
 NL = ..... cm  
 p = ..... = .....



RS = ..... cm  
 ST = ..... cm  
 TR = ..... cm  
 p = ..... = .....

# ADESSO SO... INDIVIDUARE INFORMAZIONI!

Questo scontrino è stato consegnato oggi alla signora Maria alla cassa del suo supermercato. Osservalo e rispondi alle domande.

SUPERMERCATO <i>COMPRABENE</i>	
VIA DANTE, 42 ROMA	
TEL 06937846656	
PARTITA IVA 03475736489	
	EURO
COTONE IDROFILO	0,89
RICOTTA FRESCA	0,95
POLLO ARROSTO	3,10
GELATO ALLA CREMA	5,85
3 PEZ. x 1,95	
OLIO D'OLIVA	3,59
PASTA DI SEMOLA	2,50
5 PEZZI x 0,50	
ARANCIATA	2,20
2 PEZZI x 1,10	
SAPONE LIQUIDO	2,99
SHAMPOO	1,89
<b>TOTALE</b>	<b>23,96</b>
CONTANTI	50,00
RESTO	26,04
N° PEZZI 16	
CLIENTE FEDELTA'	
TESSERA N° 785124096549	
PUNTI PREC.	372
PUNTI SPESA	2
PUNTI TOTALI	374

- In quale supermercato ha fatto gli acquisti la signora Maria?  
.....
- Dove si trova il supermercato?  
.....
- Qual è il prodotto più costoso che ha acquistato?  
.....
- Qual è il prodotto meno costoso?  
.....
- Quanto ha speso?  
.....
- Quanto ha ricevuto di resto?  
.....
- Quanti "pezzi" ha acquistato?  
.....
- Con ogni spesa la signora Maria incrementa una raccolta punti. Quanti punti ha totalizzato con la spesa di oggi?  
.....
- Quanti punti ha in totale?  
.....
- Per avere la macchina per il caffè espresso, deve raccogliere 1500 punti. Quanti gliene mancano?  
.....

