

Copia i problemi sul quaderno e inserisci la domanda nascosta al posto della stellina e poi risolvi.

1) Maria e José si dividono 54 ciliegie in parti uguali. (\*)

José ne dà 12 al suo fratellino.

Quante ciliegie restano a José?

2) Il giardiniere ha 24 bulbi di tulipani rossi e 72 bulbi di tulipani gialli. (\*)

Deve piantare lo stesso numero di bulbi in 6 aiuole uguali.

Quanti tulipani pianta in ogni aiuola?

3) In un teatro ci sono 15 file di poltrone .

In ogni fila ci sono 10 poltrone. (\*)

Allo spettacolo di ieri sera erano presenti 125 spettatori.

Quante poltrone erano libere?

Esegui in colonna le seguenti operazioni sul quaderno.

$$618+43+57= \quad 207+ 9+138= \quad 461+239+15= \quad 236+24+506=$$

$$607-328= \quad 910-736= \quad 604-428= \quad 813-479=$$

$$716 \times 2= \quad 257 \times 8= \quad 403 \times 5= \quad 107 \times 4= \quad 325 \times 3= \quad 317 \times 6=$$

$$92:8= \quad 61:5= \quad 75:4= \quad 38:2= \quad 42:3= \quad 76:4=$$

Completa pag. 24 sul quaderno delle schede riguardante i problemi con i dati nascosti ,inutili, mancanti.

Completa pag. 61 sul quaderno delle schede, dopo aver riletto pag. 105 riguardante i poligoni ,sul libro viola.

# DATI NASCOSTI, MANCANTI, INUTILI

Leggi il testo dei problemi e individua i dati nascosti, mancanti o inutili.  
Poi risolvi i problemi, quando è possibile.

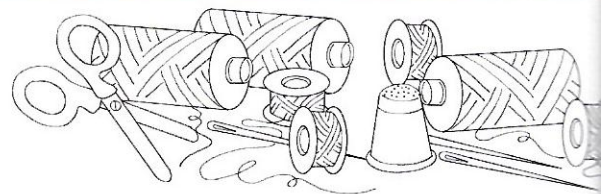
1 **Cucito** • La nonna ha una scatola dove tiene il necessario per il cucito: 10 aghi, 2 forbici, 3 uncinetti, 1 ditale, 12 rocchetti piccoli di filo colorato e 6 rocchetti grandi di filo nero.

Quanti rocchetti di filo possiede in tutto la nonna?

DATI: I dati .....

sono .....

SOLUZIONE:  = .....



2 **I libri** • Un libro di Storia ha 56 pagine, un libro di Geografia molte di più.

Qual è la differenza tra le pagine di Storia e quelle di Geografia?

DATI: I dati .....

sono .....

SOLUZIONE:  = .....

3 **I soldatini** • Lo zio di Angelo colleziona soldatini e macchinine. Possiede 72 soldatini e 84 macchinine. Per fare ordine, sistema i soldatini su 3 mensole.

Quanti soldatini metterà su ogni mensola?

DATI: I dati .....

sono .....

SOLUZIONE:  = .....

4 **Le canzoni** • Enrica ascolta delle canzoni per bambini.

Quante canzoni ascolta in 6 giorni?

DATI: I dati .....

sono .....

SOLUZIONE:  = .....


5 **Le caramelle** • 3 bambini cercano di prendere da un barattolo più caramelle possibili, utilizzando entrambe le mani. Riescono a mettere 4 caramelle in ogni pugno. Quante caramelle riusciranno a prendere in tutto?

DATI: I dati .....

sono .....


SOLUZIONE:  = .....

SOLUZIONE:  = .....



# POLIGONI

1 Colora solo i **poligoni**.



2 Colora solo le lettere che sono formate da **poligoni**.

